



EŻAMIJIET TA' NOFS IS-SENA
Kulleġġ Maria Regina
Sena Skolastika 2014 / 2015

Kreattiv, Innovattiv, Professionali

Il-Ħames Sena

Studji Soċjali

Ħin: Siegħa

Isem: _____

Klassi: _____

Skola: _____

Total tal-Marki

IS-SAJD U L-AKKWAKULTURA

Eżerċizzju A: Wieġeb billi timmarka r-risposti t-tajbin.

1. Dgħajsa tipika li juża s-sajjied Malti hija (l-luzzu, l-ispidbowt, d-destrojer, l-jott).
2. Meta ngħidu sajjied *full-time* nifhmu sajjied li jaqla' x'jiekol (mis-sajd biss, mis-sajd u l-bini tad-djar, mis-sajd u t-tagħlim tat-tfal, mis-sajd u s-sewqan tal-karozza tal-linja).
3. Is-sajjied Malti juża` ċ-ċimi biex jaqbad (il-qarnit, il-lampuki, l-awrat, il-pixxispad).
4. Fl-istampa jidher il-Forti San Luċjan li jinsab fil-limiti ta' Marsaxlokk. Dan il-forti ta' San Luċjan huwa ċ-Ċentru (tal-Kunsill Lokali, tal-Port il-Kbir, tal-Akkwakultura, tal-Ajruport).
5. Fil-Forti ta' San Luċjan jitkabbar ħut għall-ikel magħruf bħala (awrat, lampuki, xark, pixxispad).



(5 x marka = 5 marki)

Eżerċizzju B: Wieġeb dawn il-mistoqsijiet.

1. X'tissejjaħ din it-tip ta' dgħajsa?



2. X'inhuma l-kuluri tipiċi ta' dawn it-tip ta' dgħajjes?

3. Semmi tip ta' dgħajsa li jużaw is-sajjieda biex joħorgu jistadu u jdumu ħafna fuq il-baħar.

4. Għaliex ix-xogħol tas-sajjied huwa diffiċli?

5. Semmi raġuni għaliex dan ix-xogħol huwa mportanti?

Eżercizzju Ċ: Ikteb VERU jew FALZ dwar is-SAJD.

1. Il-ħajja tas-sajjied hi marbuta ma' ħinijiet fissi. _____

2. Is-sajjieda jmorru jistadu meta r-riħ ikun qawwi. _____

3. Permezz taċ-ċimi u r-rixa jinqabdu l-lampuki. _____

4. Is-sajd għal-lampuki jsir bejn Frar u April. _____

5. Aktar insibu sajjieda part-time milli sajjieda full-time. _____

(5 x marka = 5 marki)



Eżercizzju D: Aqra: Marjo, tifel Malti, iltaqa' ma' sajjied f'raħal tas-sajjieda. Imla l-vojt f'dan id-djalogu bejn Marjo u s-sajjied.

Marjo: X'tip ta' dgħajsa tuża biex toħroġ fuq il-baħar?

Sajjied: _____



Marjo: Meta jkun ħafna maltemp x'taġħmel?

Sajjied: _____

Marjo: Intom is-sajjieda kif taqbduh il-ħut? Liema għodda tużaw?

Sajjied: _____

Marjo: Liema ħut huwa l-aktar komuni fil-baħar ta' madwar Malta?


Sajjied: _____

Marjo: Xi trid tfisser biha meta inti għedtli li taħdem sajjied *part-time*?

Sajjied: _____

Marjo: Grazzi ħafna talli qattajt f'tit ħin titkellem miegħi! Issa ngħid lill-għalliema tiegħi forsi xi darba tiġi tkellimna fil-klassi dwar ix-xogħol ta' sajjied, għaliex vera ħadt gost nisimgħek u tgħallimt ħafna!

(5 x 2marki = 10marki)



IL-LOGĦOB OLIMPIKU

Eżerċizzju E: Aghżel it-tajba. Immarka b'ċirku l-ħames logħbiet ta' barra.

ċess	<i>snakes and ladders</i>	futbol
<i>rugby</i>	karti tal-logħob	tenis
<i>table soccer</i>	ġiri bir-roti	ġiri

(5 x marka = 5 marki)

Eżerċizzju F(i): Imla l-vojt bi kliem mill-kaxxa:


Kuruna tar-rand, Żeus, irġiel, Ateni, tlielaq



Il-logħob Olimpiku Antik beda fil-Belt ta' _____.

F'dak iż-żmien l-_____ biss kienu jieħdu sehem. Dan il-logħob kien isir f'ġieħ alla _____. It-tigrijiet taż-żwiemel, it-_____ u l-qbiż kienu popolari ħafna. Kull rebbieħ kien jingħata _____.

(5 x marka = 5 marki)



Eżerċizzju F (ii): Imla l-vojt bi kliem addattat.

Fis-sena 1896 il-logħob Olimpiku reġa' ħa l-ħajja grazzi għall-Baruni Franciż _____. Hu kien jemmen li l-importanti fil-logħob mhux li _____ iżda li tieħu sehem. Il-Bandiera Olimpika fiha ħames _____ ta' kulur differenti. Dawn ifissru _____ bejn il-kontinenti. Dan il-logħob isir kull _____ snin.

(5 x marka = 5 marki)

Eżerċizzju Ġ: Kompli



1. Il-logħob li jidher fl-istampa insegwuh fuq _____. (marka)
2. L-obeżita' hija ħxuna żejda. Semmi żewġ modi kif nistgħu niġġieldu din il-problema tal-obeżita'.
 - a. _____ (2 marki)
 - b. _____ (2marki)
3. Semmi żewġ logħbiet tradizzjonali li kienu jilagħbu l-Maltin tal-antik.
_____, _____ (2 marki)

Eżerċizzju G: Qabbel kolonna A ma' kolonna B billi tpoġġi numru.

1	Fl-antik it-tfal kienu jgħaddu ż-żmien		Jagħmilna tfal għazziena u inqas b'saħħitna.
2	Ftit logħob wara ġurnata skola		iġibu l-problema tal-obesita'.
3	Il-logħob ta' barra jgħinna		li ma jistax ikun tirbaħ dejjem.
4	Ikel mimli xaħmijiet u nuqqas ta' eżerċizzju		jaqbzu l-ħabel u jilagħbu l-passju.
5	Bis-saħħa tal-logħob nitgħallem		id-difetti ta' sħabna u naħdmu bħala tim.
6	Irridu nidraw naċċettaw		jekk inkunux b'saħħitna jew le.
7	L-ikel li nieklu jiddeċiedi għalina		nagħmlu ħbieb ġodda.
8	In-nuqqas ta' eżerċizzju		Jgħinni nirrilassa u nserraħ moħħi .

(8 x marka = 8 marki)

MILL-GĦERIEN GĦALL-ISKYSKRAPERS

Eżerċizzju GĦ: Daħħal il-kelma nieqsa.

1. It-tempji ta' Ħaġar Qim u Ħal Tarxien jissejġu tempji _____.
2. Dawn it-tempji nbnew b'ġebel _____ billi kienu jirrumblawhom.
3. Illum il-ġebel naqtgħuh mill-_____.
4. Ħafna mid- djar tagħna (ħares lejn l-istampa)
huma mibnija bil-ġebbla tal-_____.
5. Hawn Malta nibnu wkoll _____ li jfissru djar mibnija fuq xulxin.
6. Jintużaw _____ biex jinbnew bini jew skyscrapers.
7. Flok ma' nużaw il-ġebbla tradizzjonali, il-bennejja jużaw ukoll il-_____.
8. Fil-girna l-bidwi kien idaħħal in-nagħaġ u l-_____ tiegħu.




(8 x marka = 8 marki)

Eżerċizzju H: Ħares sew lejn l-istampi u wieġeb dawn il-mistoqsijiet.

1a) Fil-bini għoli ħafna bħal tal-istampa, jintuża ħafna _____ . (marka)

b) Semmi vantaġġ li tibni fil-għoli. _____

_____ (2marki)





2a) X`jismu dan l-għar? _____

(marka)

b) X` instab fih dan l-għar fi żmien il-qedem?

(2marki)

3a) Dan ir-ritratt meħud Malta jew barra minn Malta?

_____ (marka)



b) Għaliex taħseb hekk?

_____ (2 marki)



4a) X`qed tara f' dan ir-ritratt?

_____ (marka)

b) Illum postijiet bħal dawn jiswew l-flus jew irħas?

_____ (2 marki)

Total (12-il marka)

TMIEM IL-KARTA